

FICHA DE ESTUDO


História e Geografia de Portugal



5º ano

Lê com atenção e responde.

1. Observa a imagem e responde.



a) Indica o que representa.

.....
.....

b) Identifica as duas partes em que se divide.

.....
.....
.....

c) Que grupos sociais aí viviam?

.....
.....

d) Enumera três produtos resultantes da exploração florestal.

.....
.....

2. Observa a imagem e responde.



a) O que representa?

.....
.....

b) Quais são os móveis?

.....
.....
.....


c) O que está nas paredes?

.....

d) Como se chamam e o que fazem as personagens no meio do salão?

.....
.....

3. Observa a imagem e responde.



a) O que representa?

.....

b) Quem é que lá vivia?

.....





.....

c) Como vestiam?

.....

.....

d) Faz a correspondência ligando os elementos das colunas.

Igreja				tratavam os doentes
Claustro				ensinavam e rezavam
Enfermaria				descansavam os peregrinos e os viajantes
Albergaria				meditavam e passeavam



e) Como se chama o que está representado na imagem? Porquê?

.....
.....
.....

f) Quem as fazia?

.....

g) Onde eram feitas?

.....

h) Qual a situação desse local e porquê?

.....
.....
.....